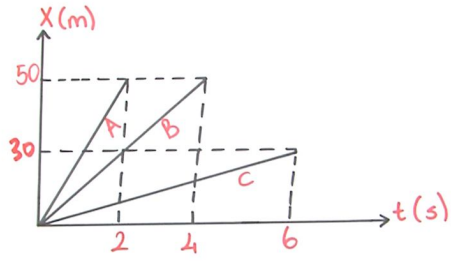
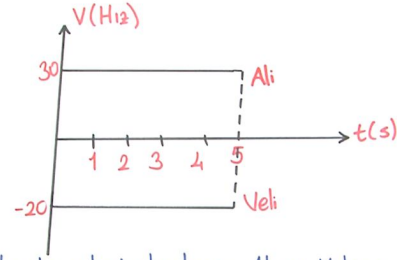


1

ÖRNEK

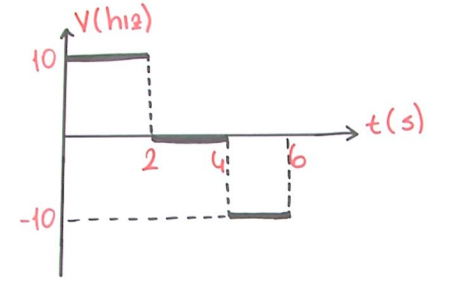
Hız-zaman grafiğini çiziniz.

2

ÖRNEK

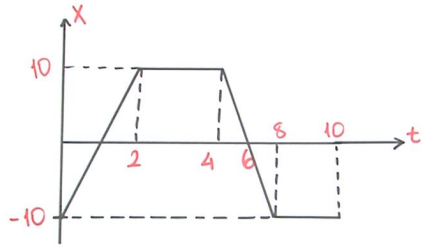
Aynı noktadan harekete başlayan Ali ve Veli'nin 5 sn sonra aralarındaki uzaklık kaç m olur?

3

ÖRNEK

Konum-zaman grafiğini çiziniz.

4

ÖRNEK

$V-t$ grafiğini çiziniz.

5

6